

19-


Prendi i pezzi necessari per fare una collana di pasta: il filo, i maccheroni, i cannolicchi. Mettili sulle figurine. Con quali figurine puoi fare una collana uguale a B? Quali fig. sono equivalenti ad A? Indicazioni:  $B \rightleftharpoons A + C$  ;  $B \rightarrow C + D + F$  ;  $D + F \rightarrow A$  ;  $B - A \rightarrow C \times \rightarrow E$  ;  $D + E + F \times \rightarrow B...$



IV 19 A



IV 19 B



IV 19 C



IV 19 D



IV 19 E




IV 19 F

20-

Costruisci il treno B, poi il treno C... costruisci il treno E. Quali vagoni del treno C devono essere lasciati al deposito se deve partire solo la locomotiva? Indicazioni:  $A + F \rightleftharpoons B$  ;  $B + D \rightleftharpoons C$  ;  $B + F \rightleftharpoons E$  ;  $C - F \rightarrow A + D$ ...




I 20 A



I 20 B



I 20 C



I 20 D



I 20 E



I 20 F

21-

Se metti il cerchio D tra i cerchi della fig. B ottieni... Se metti il cerchio F intorno alla fig. E... Indicazioni:

$D + B \rightarrow A$  ;  $F + E \rightarrow A$  ;  $F + E - D \rightarrow B$  ;  $C - D \rightarrow F$ ...

