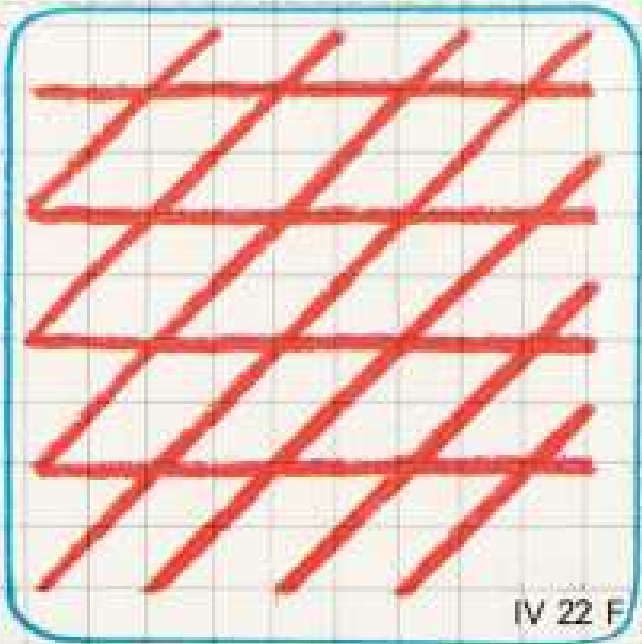
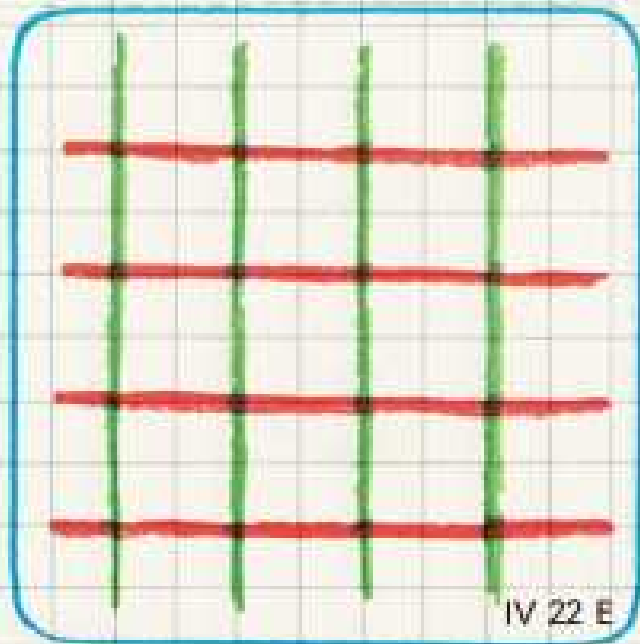
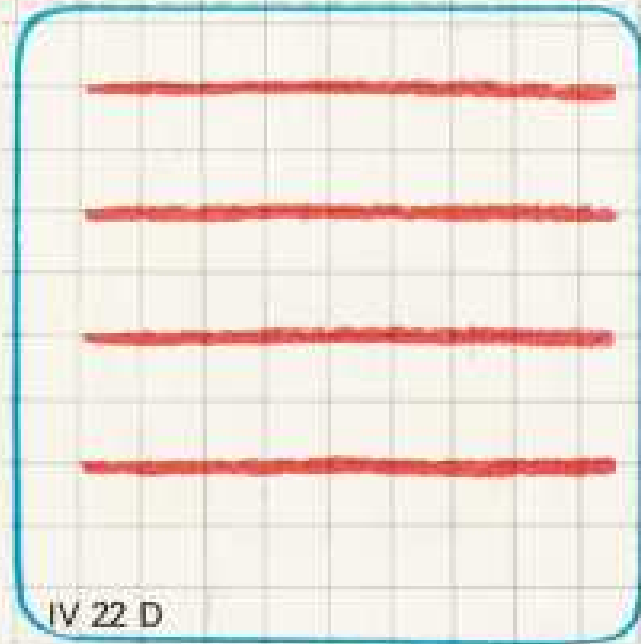
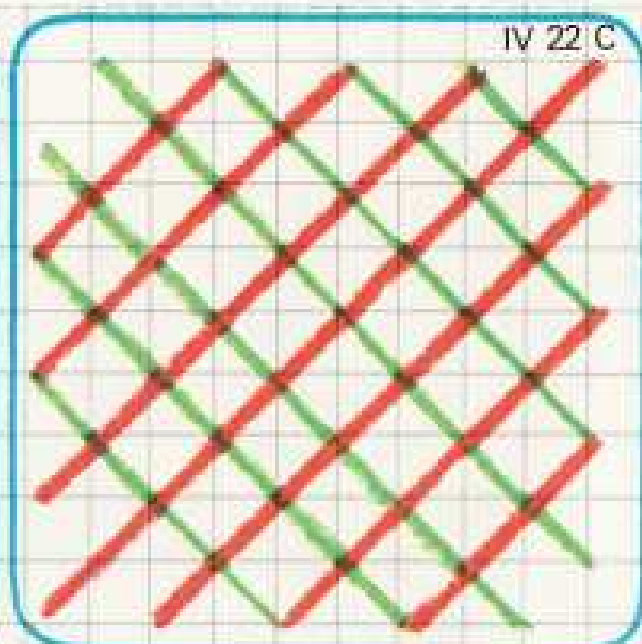
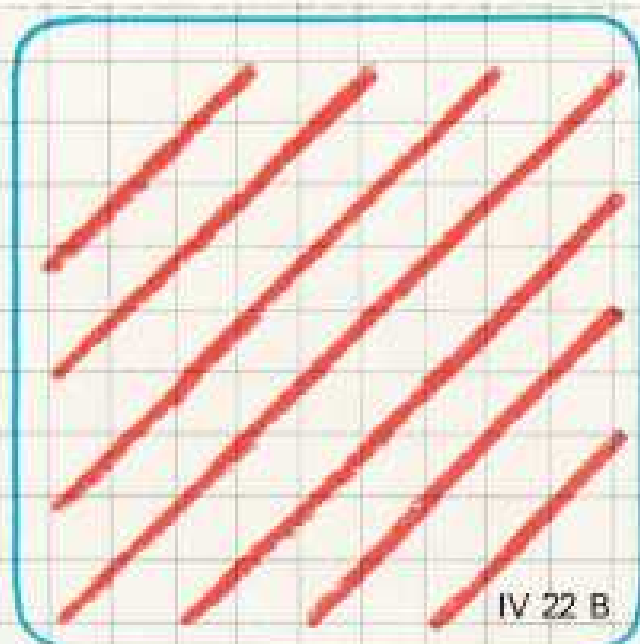
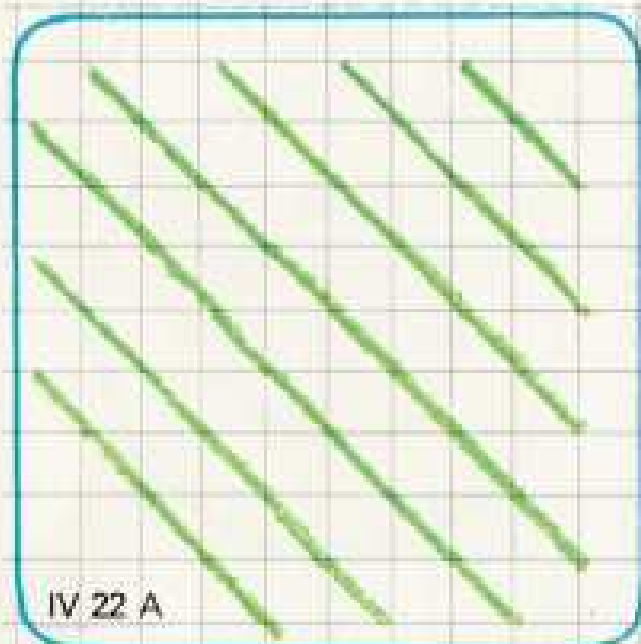


22-

Per avere la fig. C quali righe bisogna incrociare? e per avere la F ? Indicazioni:  $A + B \rightleftharpoons C$  ;  $B + D \rightleftharpoons F$  ;  
 $E - D \rightarrow A...$



23-

Quali palline sono state messe nel bicchiere B ? se si tolgono, che cosa si ottiene? Se si mettono le palline F nel bicchiere A cosa si ottiene? e se si mettono nel bicchiere D ? Racconta a parole quali azioni fai per realizzare le operazioni. Indicazioni:  $E + A \rightarrow B$  ;  $A + F \rightarrow C$  ;  $C - F \rightarrow A$  ;  $C - F \rightarrow D$  ;  $D + E \rightarrow B$ ...



IV 23 A



IV 23 B



IV 23 C



IV 23 D



IV 23 E




IV 23 F


24-

Se versi il contenuto del piatto A sul piatto B, che cosa ottieni? Come puoi ottenere la situazione della fig. E? Puoi tornare ad avere B e C? Cosa devi fare per ottenere A e B da D? Indicazioni:  $A + B \rightleftharpoons D$  ;  $A + C \rightarrow E$  ;  $A + C \not\rightarrow F$ ...


IV 24 A



IV 24 B



IV 24 C



IV 24 D



IV 24 E



IV 24 F