

Ho 12 palline.

Disegnale.

Ne perdo 5.

Quante palline mi sono rimaste?


Palline che avevo .....

Palline perse .....

Palline rimaste .....


Raggruppa per 2.

Vengono ..... gruppi  
e avanza .....



Raggruppa per 5.

Vengono ..... gruppi  
e avanza .....



Avevo 13 confetti.

Me ne hanno mangiati alcuni.

Ora ne ho 6.

Quanti confetti mi hanno mangiato?


Confetti che avevo .....

Confetti mangiati .....

Confetti rimasti .....

Raggruppa per 7.

Vengono ..... gruppi  
e avanza .....



Raggruppa per 3.

Vengono ..... gruppi  
e avanza .....

