


Disegna 6 fiori e 3 rose.  
I fiori hanno 3 foglie ciascuno.

Quanti fiori hai disegnato in tutto?  
Quante foglie?


Raggruppa per 10.

Vengono ..... gruppi  
e avanza .....



Raggruppa per 9.

Vengono ..... gruppi  
e avanza .....




Mi sono rimaste 5 palline. Ne avevo 11.  
 Ho regalato quelle che mancano.  
 Quante ne ho regalate?

Palline che avevo .....

Palline rimaste .....

Palline regalate .....

Raggruppa per 10.



Vengono ..... gruppi e avanza .....